

ΕΠΑΝΑΛΗΠΤΙΚΟ ΣΤΗ ΓΕΩΓΡΑΦΙΑ Δ΄ΤΑΞΗΣ

ΕΝΟΤΗΤΑ 1: ΣΤΗΝ ΚΥΠΡΟ ΓΙΑ ΔΙΑΚΟΠΕΣ

1. Γράψε μέσα συγκοινωνίας που ανήκουν σε κάθε ομάδα.

| Επίγεια | Εναέρια | Θαλάσσια |
|---------|---------|----------|
| | | |
| | | |
| | | |
| | | |

2. Στον πιο κάτω χάρτη της Κύπρου:

- Γράψε τα ονόματα των πόλεων
- Σημείωσε στον σταυρό προσανατολισμού τις κατευθύνσεις του ορίζοντα.
- Γράψε τα ονόματα των αεροδρομίων.
- Χρωμάτισε με κίτρινο χρώμα τη Νεκρή Ζώνη.
- Χρωμάτισε πράσινες τις δύο Γραμμές Κατάπαυσης του Πυρός.
- Χρωμάτισε με μπλε χρώμα τις κατεχόμενες περιοχές και με πορτοκαλί τις ελεύθερες.
- Δώσε έναν τίτλο στον χάρτη.



3. Σημείωσε δίπλα σε κάθε πρόταση αν είναι ορθή (Ο) ή λανθασμένη (Λ) με βάση αυτά που ισχύουν στην Κύπρο.

| πρόταση | Ο ή Λ |
|--|-------|
| α. Όλες οι περιοχές της Κύπρου είναι ελεύθερες. | |
| β. Η Νεκρή Ζώνη χωρίζει τις κατεχόμενες περιοχές από τις ελεύθερες περιοχές. | |
| γ. Οι κατεχόμενες περιοχές βρίσκονται στο νότιο μέρος της Κύπρου. | |
| δ. Οι περιοχές βόρεια της Νεκρής Ζώνης είναι κατεχόμενες. | |
| ε. Το αεροδρόμιο Λευκωσίας είναι κλειστό. | |
| στ. Το αεροδρόμιο Λευκωσίας βρίσκεται στις κατεχόμενες περιοχές. | |

4. Συμπλήρωσε τις προτάσεις με τις λέξεις/φράσεις: *ελεύθερη περιοχή, κατεχόμενη περιοχή, Νεκρή Ζώνη, κλειστό, Οργανισμός Ηνωμένων Εθνών*

Το αεροδρόμιο Λευκωσίας είναι από το 1974.

Το αεροδρόμιο Λευκωσίας βρίσκεται στην και ελέγχεται από τον

Τα αεροδρόμια Λάρνακας και Πάφου βρίσκονται στην της Κύπρου και ελέγχονται από την Κυπριακή Δημοκρατία.

5. Από ποια αεροδρόμια της Κυπριακής Δημοκρατίας μπορεί να αφιχθεί ένας τουρίστας στην Κύπρο; Από ποιο αεροδρόμιο της Δημοκρατίας μας δεν μπορεί να αφιχθεί; Εξήγησε.

.....

.....

.....

.....

.....

.....

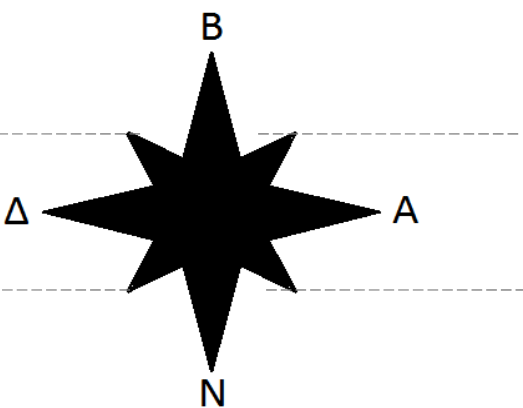
6. Γράψε σημεία ενδιαφέροντος που θα μπορούσε να επισκεφθεί ένας τουρίστας στις πιο κάτω περιοχές της Κύπρου.

| Λευκωσία | Λεμεσός | Λάρνακα | Πάφος | Κατεχόμενες Περιοχές |
|----------|---------|---------|-------|----------------------|
| | | | | |
| | | | | |
| | | | | |
| | | | | |

7. Χρωμάτισε τον πιο κάτω γεωμορφολογικό χάρτη της Κύπρου με τα κατάλληλα χρώματα και ονόμασε τις οροσειρές και τις πεδιάδες. Ακολούθως, δημιούργησε το υπόμνημα και γράψε τα ονόματα των πόλεων πάνω στον χάρτη.



8. Στο αστέρι προσανατολισμού συμπλήρωσε ολογράφως τις υπόλοιπες κατευθύνσεις του οριζοντα και συμπλήρωσε τα κενά.



Η Λεμεσός βρίσκεται στα της Λευκωσίας.

Η Πάφος βρίσκεται στα της Λεμεσού.

Η Κερύνεια βρίσκεται στα της Λευκωσίας.

Η Κερύνεια βρίσκεται στα της Πάφου.

Η Αμμόχωστος βρίσκεται στα της Λάρνακας.

Η Λεμεσός βρίσκεται στα της Λάρνακας.

9. Παρατήρησε τον χάρτη και σημείωσε προς ποια κατεύθυνση κινούμαστε για να πάμε από τον έναν τόπο στον άλλο. Χρησιμοποίησε τις κατευθύνσεις του ορίζοντα.

- α. Από τη Λεμεσό προς την Πάφο κινούμαστε
- β. Από τη Λευκωσία στην Κερύνεια κινούμαστε
- γ. Από τη Λευκωσία προς τη Λάρνακα κινούμαστε
- δ. Από τη Λάρνακα προς τη Λεμεσό κινούμαστε
- ε. Από τη Λεμεσό προς τη Λάρνακα κινούμαστε

10. Σημείωσε δίπλα σε κάθε πρόταση αν είναι ορθή (Ο) ή λανθασμένη (Λ) με βάση αυτά που ισχύουν στην Κύπρο.

| πρόταση | Ο ή Λ |
|--|-------|
| Στους αυτοκινητόδρομους κινούνται και τρένα. | |
| Δεν υπάρχουν δρόμοι για να πάμε στις κατεχόμενες περιοχές. | |
| Οι δρόμοι συνδέουν τις πόλεις μεταξύ τους. | |
| Στους δρόμους κινούνται αυτοκίνητα, ταξί, λεωφορεία, μοτοσικλέτες. | |
| Όλα τα οδοφράγματα στην Κύπρο είναι κλειστά. | |
| Οι αυτοκινητόδρομοι στην Κύπρο περνούν από τις οροσειρές. | |
| Για να πάμε στις κατεχόμενες περιοχές περνάμε από τα σημεία διέλευσης. | |


11. Ονόμασε τα πιο κάτω σημεία ενδιαφέροντος της Κύπρου.



.....




.....



.....



.....



.....



.....

Όνομα:

τάξη:

ΕΡΓΑΣΙΑ ΣΤΗ ΓΕΩΓΡΑΦΙΑ

Να κάνετε παρουσίαση σε ηλεκτρονική μορφή (ή γραπτά σε μορφή πόστερ) για μία **ευρωπαϊκή χώρα**. Να προσέξετε τα εξής σημεία:

- Να υπάρχουν χάρτες.
- Να επεξηγείται η θέση της (π.χ. νότια της Ευρώπης, με ποιες χώρες συνορεύει, θάλασσες που τη βρέχουν).
- Να φαίνεται η σημαία της .
- Να αναφέρονται γενικά στοιχεία για τη χώρα (κλίμα, γλώσσα, νόμισμα, θρησκείες, πρωτεύουσα, άλλες πόλεις κ.ά.).
- Να αναφέρονται γεωγραφικά χαρακτηριστικά της χώρας (κλίμα, έδαφος-πεδινό ή ορεινό, κυριότερες οροσειρές, ποτάμια, λίμνες, προϊόντα που παράγει).
- Αξιοθέατα χώρας- Σημεία ενδιαφέροντος (εικόνες)
- Πολιτισμός , εκπαίδευση, αθλητισμός χώρας (σημαντικοί καλλιτέχνες-ζωγράφοι, μουσικοί, ηθοποιοί, αθλητές, επιστήμονες κ.ά. που κατάγονται από τη χώρα, γνωστές εκδηλώσεις -φεστιβάλ που διοργανώνονται).
- Ασχολίες- Τρόπος ζωής των κατοίκων (ενδυμασία, φαγητά, έθιμα).
- Κατάλληλο φιλμάκι από το youtube διάρκειας περίπου 2 λεπτών σχετικό με τη χώρα (αν θέλετε).
- Ό,τι άλλα στοιχεία θεωρείτε εσείς σημαντικά.
- **Προσοχή ώστε να μην αντιγράψετε μηχανικά πολλές και δυσνόητες πληροφορίες.** Όπου μπορείτε, είναι καλό να συνοδεύετε τα λόγια με αντίστοιχες εικόνες και ήχους.

Η ΕΥΡΩΠΗ – Η ΕΥΡΩΠΑΪΚΗ ΕΝΩΣΗ (σελ. 93-118 και φυλλάδια για Ε.Ε.)

Επαναληπτικές εργασίας στη γεωγραφία

1. Συμπλήρωσε τα κενά με τις λέξεις που λείπουν.

Η Ευρώπη βρίσκεται στο τριών ηπείρων: της, της και της Η θέση της διευκολύνει το και τις

Το μεγαλύτερο μέρος τους εδάφους της είναι, γεγονός που ευνοεί την ανάπτυξη της και της

Το κλίμα της Ευρώπης είναι κυρίως

Οι ευρωπαίοι θαλασσοπόροι τα παλιά χρόνια δημιούργησαν σε άλλες χώρες.

2. Αντιστοίχισε.

Νότια Ευρώπη ηπειρωτικό κλίμα

Κεντρική και ανατολική Ευρώπη μεσογειακό κλίμα

Βορειοδυτική Ευρώπη ωκεάνιο κλίμα

3. Γράψε τους λόγους που συνέβαλαν στην ανάπτυξη της γεωργίας και της κτηνοτροφίας στην Ευρώπη.

.....
.....
.....
.....
.....

4. Ποια πλεονεκτήματα έχουν οι πλωτοί ποταμοί της Ευρώπης, όπως ο Δούναβης;

.....
.....
.....
.....

5. Ανάφερε μερικούς από τους λόγους που συνέβαλαν στη βιομηχανική ανάπτυξη της Ευρώπης.

.....
.....
.....
.....
.....
.....
.....

6. Συμπλήρωσε τον πίνακα με στοιχεία που αφορούν την Ευρώπη. Χρησιμοποίησε τον γεωμορφολογικό χάρτη της Ευρώπης (άτλαντας)

| Ποτάμια | Οροσειρές | Θάλασσες | Χώρες |
|---------|-----------|----------|-------|
| | | | |
| | | | |
| | | | |
| | | | |

7. Σε ποιους τομείς η Κύπρος σχετίζεται με άλλες ευρωπαϊκές χώρες; Επεξήγησε.

.....
.....
.....
.....
.....

8. Γράψε Σ για τις σωστές προτάσεις και Λ για τις λανθασμένες.

Η Ευρωπαϊκή Ένωση έχει 24 κράτη-μέλη.

Η σημαία της Ε.Ε. έχει μπλε φόντο με δώδεκα αστέρια σε κυκλική διάταξη.

Όλες οι χώρες της Ε.Ε. έχουν για νόμισμά τους το ευρώ.

Η Ε.Ε. έχει ως σκοπό της μόνο την οικονομική ανάπτυξη των κρατών- μελών της

Η Κύπρος έγινε κράτος- μέλος της Ε.Ε. το 2004.

Το σύνθημα της Ε.Ε. είναι «Ενότητα-Ισότητα-Δημοκρατία».

Όνομα:

τάξη:

9. Ποιοι είναι οι βασικοί σκοποί της Ευρωπαϊκής Ένωσης σήμερα; Ανάφερε τουλάχιστον τρεις.

.....

.....

.....

.....

.....

.....

.....

.....

10. Σημείωσε στο χάρτη της Ευρώπης (με τη βοήθεια του Άτλαντα):

- Τρεις μεγάλες οροσειρές
- Τρία ποτάμια
- Τρεις θάλασσες που τη βρέχουν
- Την Κύπρο, την Ελλάδα, τη Γαλλία, τη Γερμανία, τη Ρωσία, τη Σουηδία, την Ελβετία, την Ιταλία και τη Ρουμανία
- Το στενό του Γιβραλτάρ



Όνομα: τάξη: Η/νία:

ΑΞΙΟΛΟΓΗΣΗ ΣΤΗ ΓΕΩΓΡΑΦΙΑ Ε΄ΤΑΞΗΣ

ΕΝΟΤΗΤΑ 3: Βασικοί παράγοντες που διαμορφώνουν το κλίμα ενός τόπου

Σχόλια:

.....
.....
.....
.....

1. Συμπλήρωσε τα κενά με τις λέξεις που ταιριάζουν.

Το γεωγραφικό πλάτος είναι η απόσταση ενός τόπου από τον

Το γεωγραφικό μήκος είναι η απόσταση ενός τόπου από τον

Το γεωγραφικό μήκος και το γεωγραφικό πλάτος μετριοούνται σε

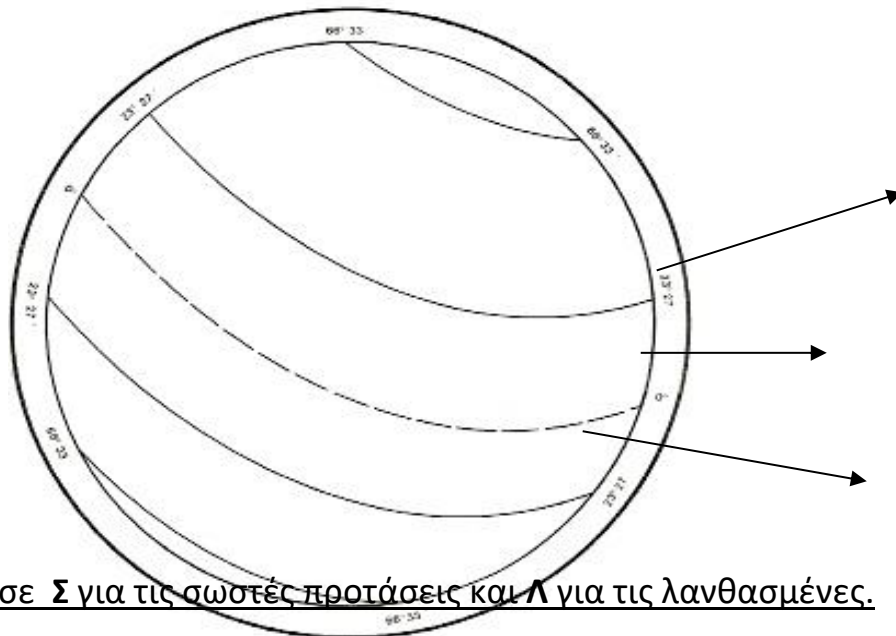
Ο Ισημερινός χωρίζει τη γη σε και ημισφαίριο .

Ο πρώτος μεσημβρινός χωρίζει τη γη σε και ημισφαίριο.

Ο Ισημερινός έχει γεωγραφικό πλάτος μοίρες.

Ο Βόρειος Πόλος έχει γεωγραφικό πλάτος μοίρες.

2. Συμπλήρωσε τα ονόματα των **κλιματικών ζωνών** της γης καθώς και τα ονόματα των κυριότερων **παράλληλων κύκλων**.



3. Συμπλήρωσε **Σ** για τις σωστές προτάσεις και **Λ** για τις λανθασμένες.

Καθώς απομακρυνόμαστε από τον Ισημερινό το κλίμα γίνεται πιο ψυχρό.

Ο πρώτος μεσημβρινός έχει γεωγραφικό μήκος 180 ° (μοίρες).

Όταν η ατμόσφαιρα έχει υγρασία βρέχει συχνά.

Οι άνεμοι που φυσούν από τη θάλασσα μεταφέρουν υδρατμούς και προκαλούν βροχές.

Οι περιοχές που βρίσκονται σε μεγάλο υψόμετρο έχουν ψηλότερες θερμοκρασίες και λιγότερες βροχές.

Τα θαλάσσια ρεύματα που κινούνται από τους πόλους προς τον ισημερινό είναι θερμά.

Η χλωρίδα και η πανίδα ενός τόπου επηρεάζονται από το κλίμα που επικρατεί.

Η Μεγάλη Βρετανία έχει κλίμα ηπειρωτικό.

4. Ποιες είναι οι τρεις παραλλαγές του εύκρατου κλίματος;

.....
.....
.....

5. Ποια είναι τα χαρακτηριστικά του μεσογειακού κλίματος; Γράψε τρεις χώρες που έχουν μεσογειακό κλίμα.

.....
.....
.....
.....
.....

6. Ποιες διαφορές υπάρχουν ανάμεσα στο κλίμα της ερήμου και στο τροπικό κλίμα;

.....
.....
.....
.....
.....
.....

7. Ποιες είναι οι δύο παραλλαγές του **ψυχρού** κλίματος; Εξήγησε με λίγα λόγια τα γενικά χαρακτηριστικά των κλιμάτων αυτών.

.....
.....
.....
.....
.....
.....

8. Πώς το κλίμα επηρεάζει τους ανθρώπους και τη ζωή τους;

.....
.....
.....
.....
.....
.....

9. Μελέτησε τον πιο κάτω χάρτη της Ευρώπης και γράψε το κλίμα που αντιστοιχεί σε κάθε αριθμό.

ΚΛΙΜΑΤΙΚΕΣ ΖΩΝΕΣ ΤΗΣ ΕΥΡΩΠΗΣ



- 1 2 3
 4 5

ΚΑΙΜΑΤΙΚΕΣ ΖΩΝΕΣ ΤΗΣ ΕΥΡΩΠΗΣ

