









Αναλογίες

Η Δ'1 και η Δ'2 πήγαν εκδρομή. Στην εκδρομή έφαγαν σε ένα εστιατόριο. Γράψε δύο δικά σου προβλήματα στο τετράδιό σου με πληροφορίες που θα πάρεις από τον τιμοκατάλογο. Το παράδειγμα θα σε βοηθήσει.

ΕΣΤΙΑΤΌΡΙΟ «Νοστιμιά» Τιμοκατάλογος			
	€6		€6
	€8		€14
	€9		€18
	€7		€6

Πρόβλημα:

Μια μερίδα κεφτέδες στοιχίζει €8. Παράγγειλαν κεφτέδες 14 μαθητές. Πόσο στοιχισαν όλες οι μερίδες κεφτέδες;

ΑΝ



ΤΟΤΕ











Απάντηση:

Οι κεφτέδες στοιχισαν €112

Αναλογίες

Η Δ'1 και η Δ'2 πήγαν εκδρομή. Στην εκδρομή έφαγαν σε ένα εστιατόριο. Γράψε δύο δικά σου προβλήματα στο τετράδιό σου με πληροφορίες που θα πάρεις από τον τιμοκατάλογο. Το παράδειγμα θα σε βοηθήσει.

ΕΣΤΙΑΤΌΡΙΟ «Νοστιμιά» Τιμοκατάλογος			
	€6		€6
	€8		€14
	€9		€18
	€7		€6

Πρόβλημα:

Μια μερίδα κεφτέδες στοιχίζει €8. Παράγγειλαν κεφτέδες 14 μαθητές. Πόσο στοιχισαν όλες οι μερίδες κεφτέδες;

ΑΝ



ΤΟΤΕ



Απάντηση:

Οι κεφτέδες στοιχισαν €112